








Orientierung im Tausenderraum



Name: _____ Klasse: _____ Datum: _____

1. Zahlendiktat

a) _____, _____, _____, _____ *b) _____, _____, _____, _____
     




2. Hundertertafel und Tausenderbuch. Trage die passenden Zahlen ein.

a)

16		
26	27	
36		38

11		
21	22	23
		33

34	35	36
	45	46




  

*b)







223		225
	234	
243		245

577	578	579
597	598	

818		820
828	829	830

3. Ordne. Schreibe die Zahlen der Größe nach auf.

a) 28, 70, 55 _____ *b) 323, 198, 601 _____
 40, 22, 78 _____ 533, 99, 305 _____
 96, 37, 69 _____ 685, 856, 586 _____
     

4. a) Immer 100

30 + _____
 20 + _____
 25 + _____
 46 + _____
 88 + _____



*b) Immer 1000







300 + _____
 250 + _____
 470 + _____
 780 + _____
 694 + _____



5. Halbiere!


a)	Zahl	60	100	48	74
	die Hälfte				

*b)	Zahl	600	1000	860	340
	die Hälfte				


     

6. Zähle in Schritten.

- a) 36, 37, 38, _____, _____, _____
 40, 45, 50, _____, _____, _____
 100, 90, 80, _____, _____, _____


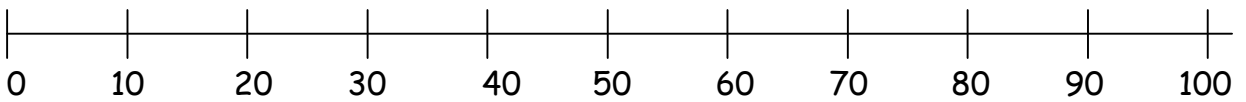


- *b) 896, 897, 898, _____, _____, _____
 50, 100, 150, _____, _____, _____
 1000, 900, 800, _____, _____, _____


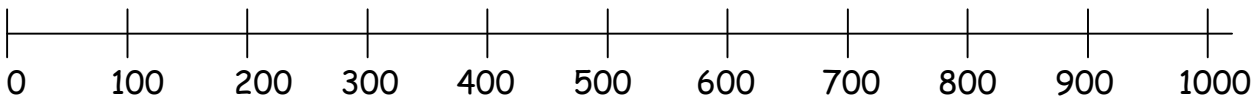


7. Zahlenreihe

- a) Ordne die Zahlen ungefähr ein: 12 51 29 98 75




- *b) Ordne die Zahlen ungefähr ein: 103 476 898 905 650




8. Verdopple!

a)	Zahl	20	50	31	47
	das Doppelte				





*b)	Zahl	200	310	280	375
	das Doppelte				



9. Nachbarzahlen. Trage Vorgänger und Nachfolger ein.

- a) _____, 95, _____ *b) _____, 424, _____
 _____, 30, _____ _____, 660, _____
 _____, 69, _____ _____, 899, _____



10. Schreibe viele Aufgaben mit dem Ergebnis 1000 auf.

