



Orientierung im Millionraum

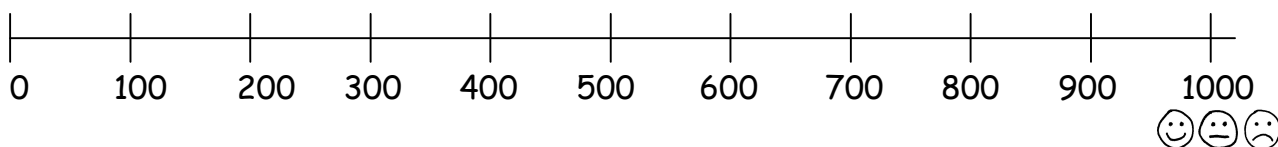
Name: _____ Klasse: _____ Datum: _____

1. Zahlendiktat

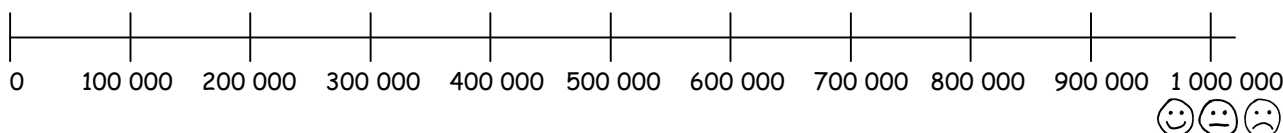
a) _____, _____, _____, _____ *b) _____, _____, _____, _____
 

2. Zahlenreihe



a) Ordne die Zahlen ungefähr ein: 103 476 898 905 650



*b) Ordne die Zahlen ungefähr ein: 150 000 476 000 800 099 925 000 605 000





3. Nachbarzahlen. Trage Vorgänger und Nachfolger ein.


a) _____, 424, _____ *b) _____, 333 333, _____
 _____, 660, _____ _____, 695 992, _____
 _____, 899, _____ _____, 500 000, _____
 


4. Verdopple!

a) Zahl	200	310	280	375	*b) Zahl	200 000	310 000	408 000	475 000
das Doppelte					das Doppelte				

5. Zähle in Schritten.




a) 896, 897, 898, _____, _____, _____
 50, 100, 150, _____, _____, _____
 1000, 900, 800, _____, _____, _____


*b) 250 000, 300 000, 350 000, _____, _____, _____
 1 000 000, 900 000, 800 000, _____, _____, _____
 500 000, 499 980, 499 960, _____, _____, _____


6. Wie heißt die Zahl?




a)

H	Z	E
••	•••	••
•••	•••••	•
••		•••••
•••••	•	••
•••	••••	•••••
		•••••


*b)

HT	ZT	T	H	Z	E
••	••	••••			
••	•••••	•	•		
••					•••••
	•••••	•••			••
	•				


7. a) Immer 1 000

- 300 + _____
- 250 + _____
- 470 + _____
- 780 + _____
- 694 + _____



*b) Immer 1 000 000

- 300 000 + _____
- 250 000 + _____
- 560 000 + _____
- 68 000 + _____
- 500 001 + _____



8. Ordne. Schreibe die Zahlen der Größe nach auf.

- a) 323, 198, 601 _____
- 533, 99, 305 _____
- 685, 856, 586 _____
- *b) 810 000, 188 000, 250 000 _____
- 240 000, 42 000, 6 000 _____
- 300 278, 378 200, 278 300 _____



9. Halbiere!

a) Zahl	600	1000	860	340		*b) Zahl	600 000	7 000	800 800	340 000
die Hälfte						die Hälfte				



10. Schreibe viele Aufgaben mit dem Ergebnis 1 000 000 auf.

