







Plusaufgaben bis 100







A

Name: _____ Klasse: _____ Datum: _____

1. Kopfrechnen

a) _____ *b) _____
     

2. Rechne aus.

a) $2 + 10 = \underline{\quad}$ *b) $50 + 30 = \underline{\quad}$
 $5 + 3 = \underline{\quad}$ $18 + 7 = \underline{\quad}$
 $10 + 6 = \underline{\quad}$ $14 + 19 = \underline{\quad}$
 $8 + 7 = \underline{\quad}$ $57 + 40 = \underline{\quad}$
 $4 + 9 = \underline{\quad}$ $23 + 58 = \underline{\quad}$
     

Platz zum Rechnen

3. Sachaufgaben

a) Hanna kauft sich ein Buch für 8 € und eine Mütze für 7 €. Wie viel kostet es zusammen?

Rechnung:

Antwort: Es kostet zusammen _____ €.



*b) Max kauft sich eine Hose für 34 € und einen Rucksack für 29 €. Wie viel kostet es zusammen?

Rechnung:

Antwort: Es kostet zusammen _____ €



4. Rechne geschickt. Schreibe deinen Rechenweg auf.

a) $5 + 9 = \underline{\quad}$

Mein Rechenweg:







*b) $41 + 39 = \underline{\quad}$


Mein Rechenweg:









5. **Bildaufgaben.** Wie viel kostet es zusammen? Schreibe die Aufgabe auf.


a)

 3€	 2€	 8€	 7€	 6€	 10€
---	---	---	---	---	--





*b)

 13€	 15€	 38€	 40€	 38€	 13€
--	--	--	--	--	--



6. **Ergänze.**

<p>a) $6 + \underline{\quad} = 10$</p> <p>$5 + \underline{\quad} = 10$</p> <p>$17 + \underline{\quad} = 20$</p> <p>$12 + \underline{\quad} = 20$</p>	<p>*b) $27 + \underline{\quad} = 30$</p> <p>$48 + \underline{\quad} = 50$</p> <p>$72 + \underline{\quad} = 80$</p> <p>$96 + \underline{\quad} = 100$</p>
--	--




Platz zum Rechnen

7. **Rechne auf zwei Wegen.**

Rechne die Aufgabe aus. Finde auch einen zweiten Rechenweg.

<p>a) $7 + 8 = \underline{\quad}$</p> <p>Mein 1. Rechenweg:</p> <p>Mein 2. Rechenweg:</p>	<p>*b) $35 + 48 = \underline{\quad}$</p> <p>Mein 1. Rechenweg:</p> <p>Mein 2. Rechenweg:</p>
---	--



*8. **Erfinde leichte und schwere Plusaufgaben.**

Das Ergebnis soll nicht größer als 100 sein.

<p>a) Meine <u>leichten</u> Aufgaben</p> 	<p>b) Meine <u>schweren</u> Aufgaben</p>
--	--

